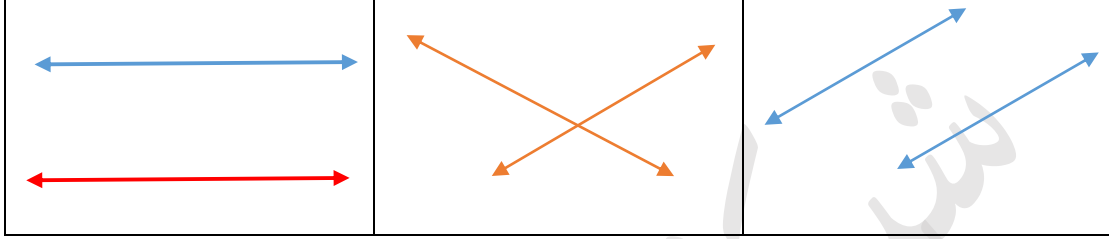
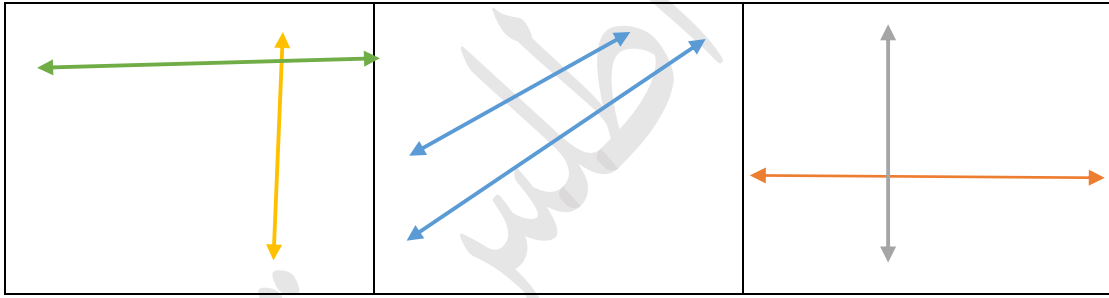


الوحدة الخامسة : الهندسة و القياس

السؤال الأول : حوط حول المستقيمان المتوازيان:

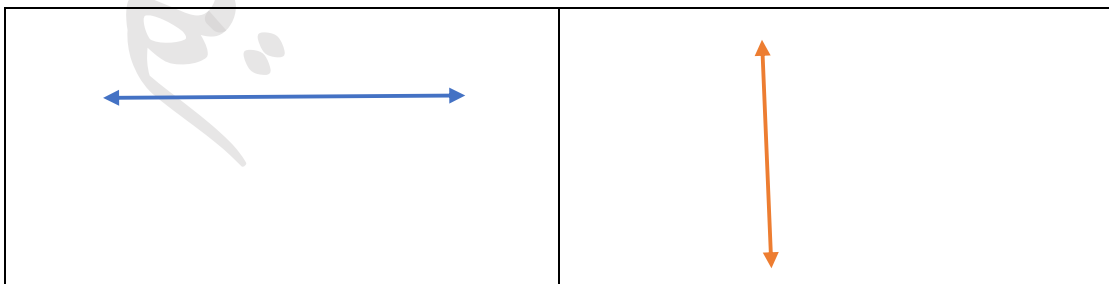


السؤال الثاني : حوط حول المستقيمان المتعامدان:



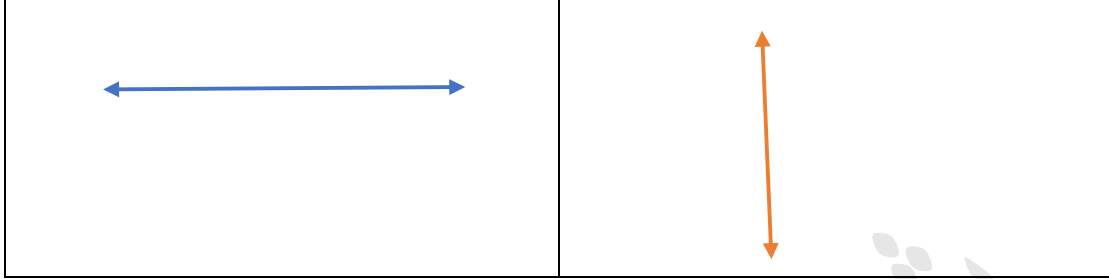
السؤال الثالث :

ارسم مستقيم موازي للمستقيمت التاليت:

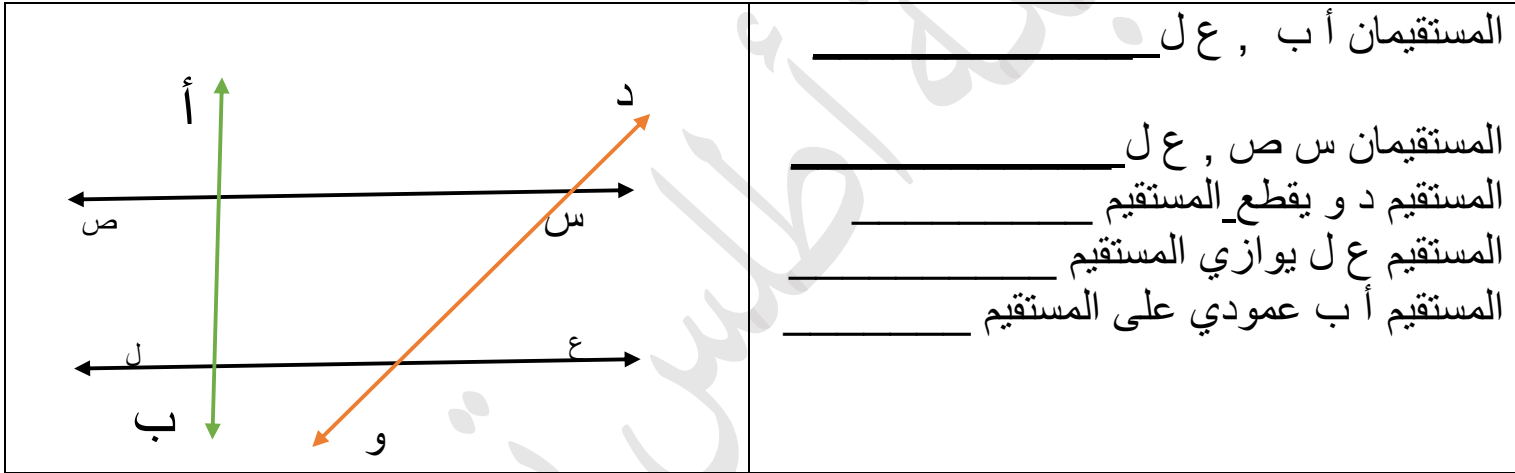


الصف الرابع

ارسم مستقيم عمودي على المستقيمتين التاليتين:



السؤال الرابع: لاحظ الشكل المجاور:



المستقيمان أ ب , ع ل _____

المستقيمان س ص , ع ل _____

المستقيم د و يقطع المستقيم _____

المستقيم ع ل يوازي المستقيم _____

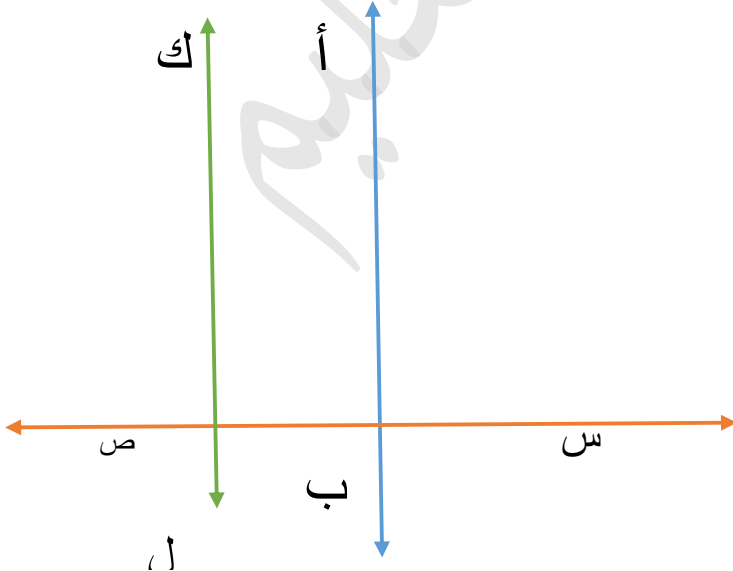
المستقيم أ ب عمودي على المستقيم _____

لاحظ الشكل و ضع علامة صح أو خطأ:

() أ ب \perp س ص

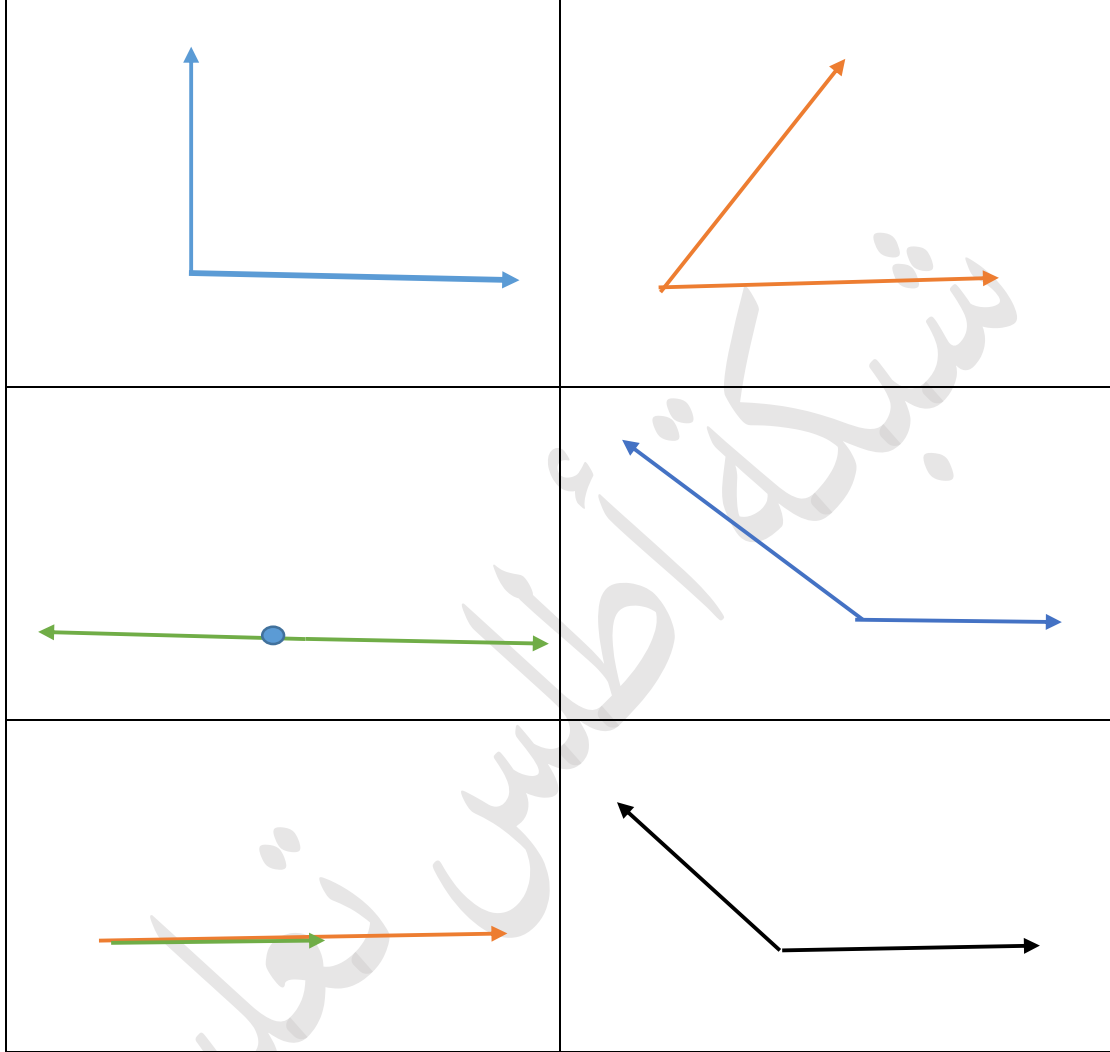
() ك ل // س ص

() ك ل // أ ب

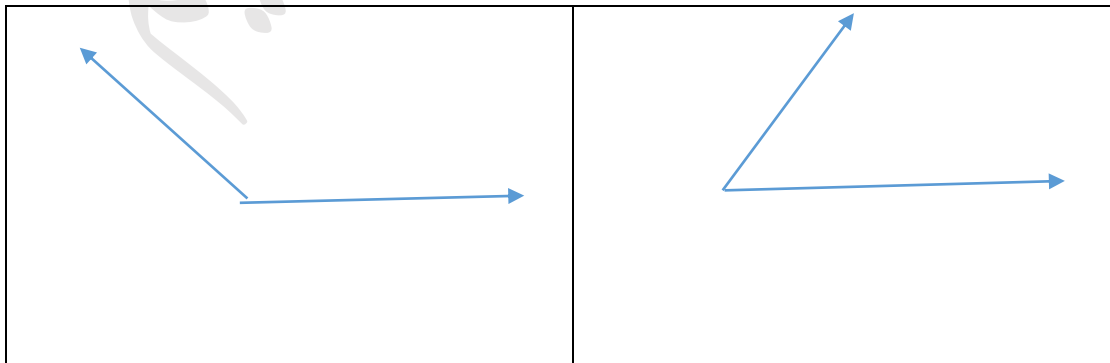


الصف الرابع


السؤال الخامس حدد نوع الزوايا التالية :



السؤال السادس : أ. أوجد قياس الزوايا التالية:



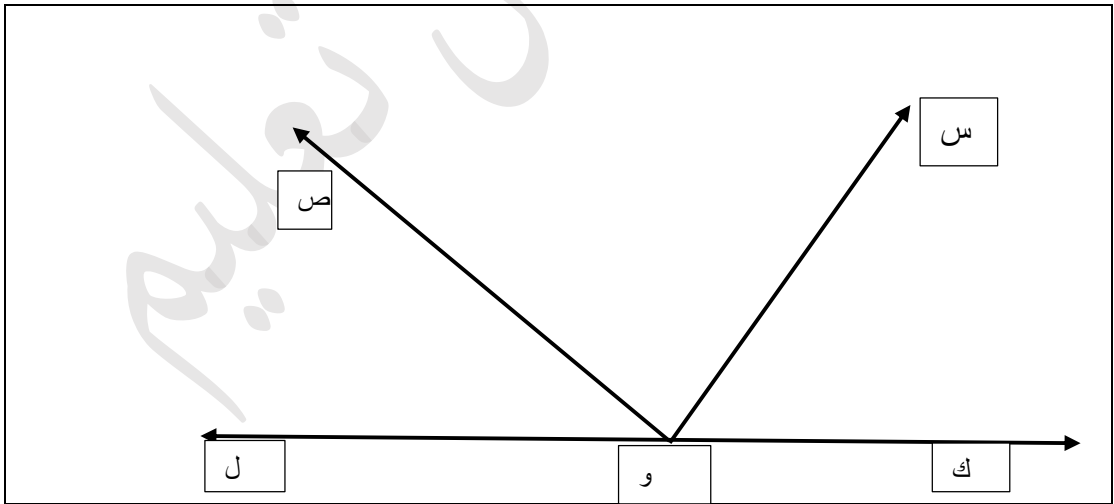
ب. أرسم زاوية أ ب ج قياسها 80



ج. أرسم زاوية قياسها 120 واسمها ب و ن

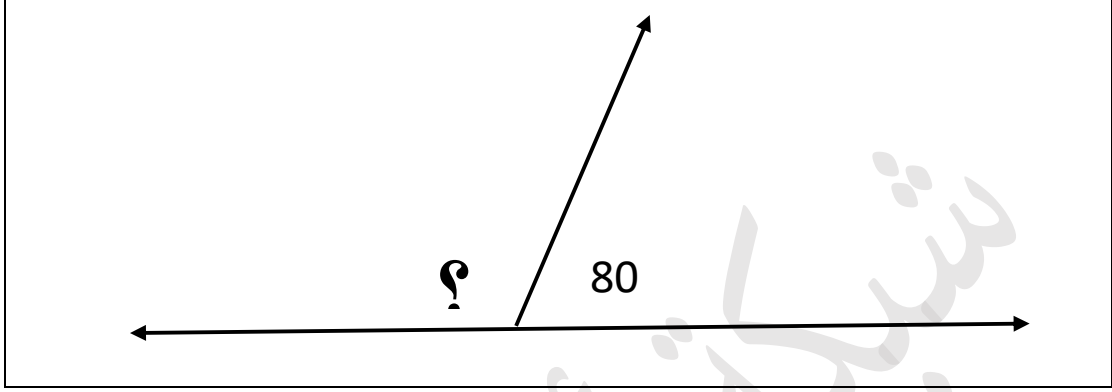


لاحظ الشكل المجاور :

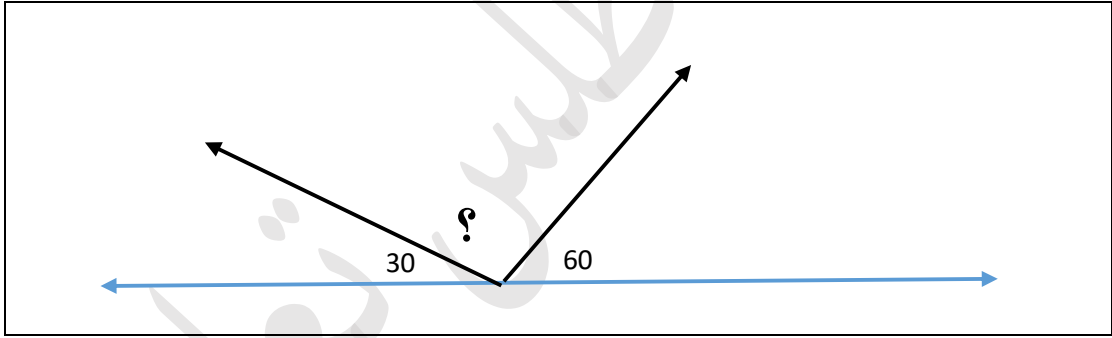


أوجد قياس الزاوية س و ص _____ قياس الزاوية س و ل _____
أوجد قياس الزاوية س و ك _____ قياس الزاوية ك و ل _____

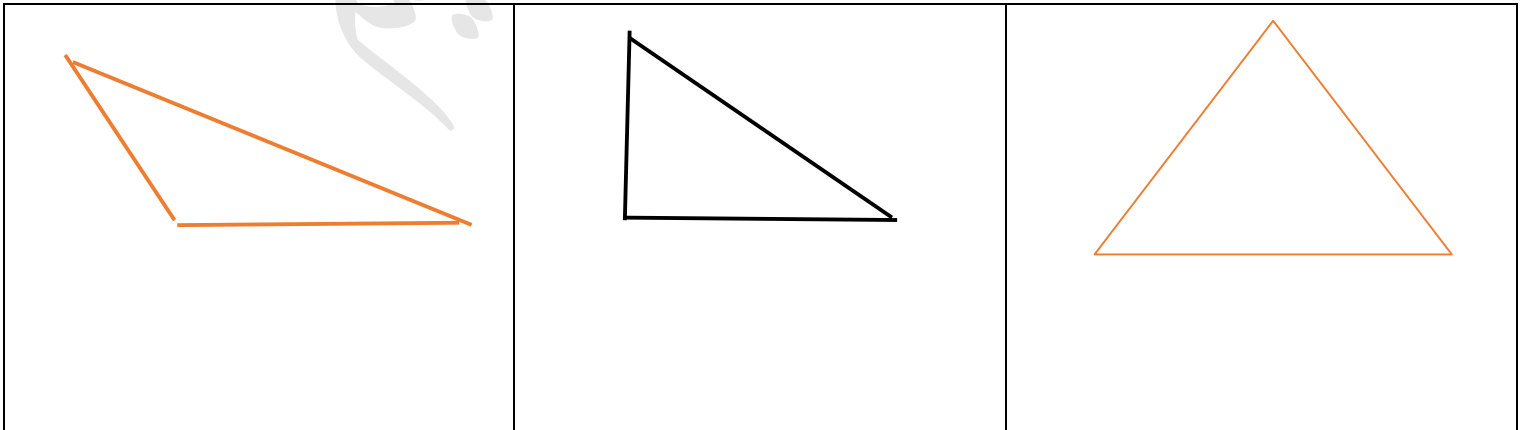
لاحظ الشكل و اوجد



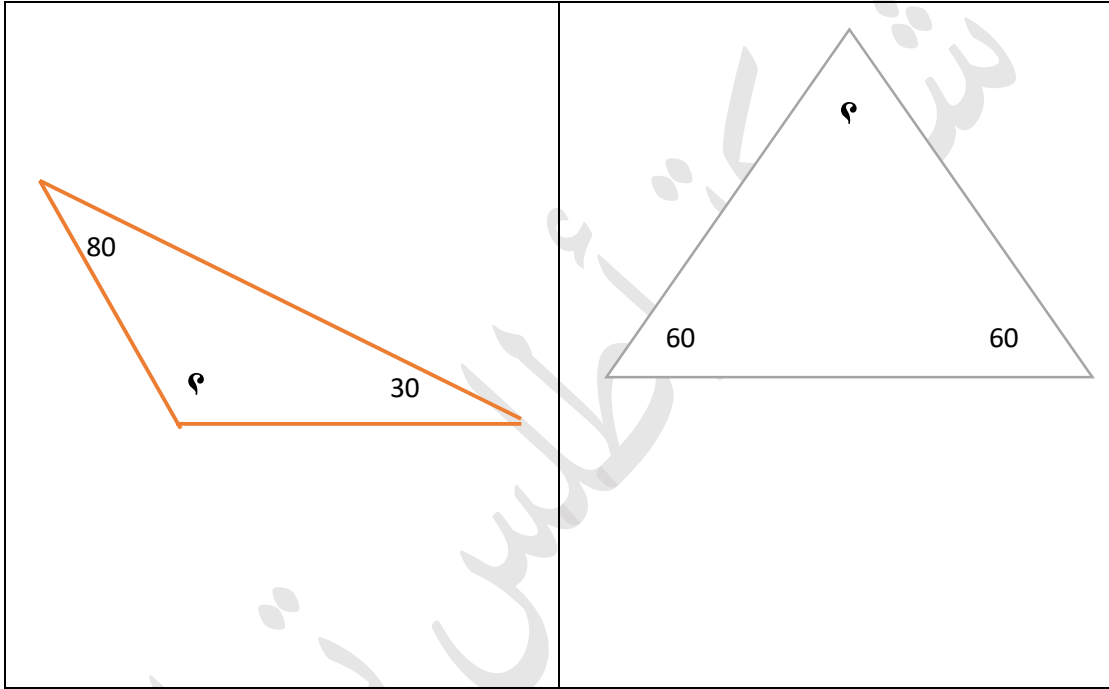
أوجد قياس الزاوية المجهولة



السؤال السابع: حدد نوع المثلثات التالية :



اوجد قياس الزاوية المجهولة في المثلثات التالية:



السؤال الثامن : صحح العبارات التالية :

1. مجموع قياسات المثلث 160 درجة _____
2. المستقيمان المتوازيان يتقاطعان في نقطة _____
3. لا يتقاطع المستقيمان المتعامدان _____
4. تشكل الزوايا التالية مثلث 30 , 60 , 120 _____
5. قياس الزاوية القائمة 120 درجة _____
6. قياس الزاوية الحادة 90 درجة _____

الصف الرابع

7. المثلث حاد الزوايا فيه زاوية قياسها 120 درجة _____

8. المثلث قائم الزاوية جميع زواياه حادة _____

السؤال التاسع : اختر الإجابة الصحيحة :

- الزاوية المنفرجة قياسها
الزاوية القائمة قياسها
الزاوية المستقيمة هي
المثلث قائم الزاوية قياس زواياه 30 و 60 و
المثلث المنفرج الزاوية قياس زواياه
المستقيمان المتوازيان
للمثلث _____ رؤوس
للمثلث _____ زوايا
- (أكبر من 90 – أصغر من 90 – يساوي 90)
(120 - 180 - 90)
(180 - 120 - 70)
(120 - 80 - 90)
(30 و60 و80 - 120 و 30 و30 - 90 و30 و60)
(لا يتقاطعان – لا يتعامدان – كل ما ذكر)
(3 - 4 - 6)
(3 - 4 - 5)

انتهت الأسئلة

[انتظروا جديد أطلس تعليم](#)